

Безуман Кристина

Шифр участника 021024

ЗАДАНИЯ ДЛЯ ОБУЧАЮЩИХСЯ

Время выполнения заданий – 60 минут

Максимальное количество баллов – 100 баллов

Задание 1. Выберите верный ответ из предложенных вариантов. Правильные ответы внесите в таблицу. Максимальный балл за задание – 10 баллов.

1.1. Выберите один верный ответ из предложенных вариантов.

(0,5 балла за каждый правильный ответ, максимальный балл за задание 1.1. - 5 баллов).

1. В какой город был приглашен княжить Рюрик:

- а) Киев ☒ б) Новгород в) Изборск г) Ладога

0,5

2. К какому веку относится правление Владимира Мономаха:

- ☒ а) XII б) XI в) XIII г) IX

0,5

3. Битва между монголами и русскими в 1380 г. получила название:

- а) Ледовое побоище в) стояние на Угре
☒ б) Мамаево побоище г) битва на Калке

0,5

4. Какое событие произошло в 1147 г.?

- а) Битва на р. Калке в) Невская битва
☒ б) первое упоминание о Москве г) Ледовое побоище

0,5

5. Какое событие произошло позже других:

- а) Крещение Руси в) Куликовская битва
б) Невская битва ☒ г) призвание варягов

—

6. Первая русская летопись называлась:

- ☒ а) «Повесть временных лет» в) «Слово о полку Игореве»
б) «Слово о погибели земли русской» г) «Задонщина»

0,5

7. Прозвище Невский князь Александр Ярославович получил за:

- а) проведение переписи населения в Новгороде в) победу над крестоносцами
б) поездку к хану Орды за ярлыком ☒ г) разгром шведского отряда

0,5

8. Центральным органом управления в Русском государстве XV в. был (и):

- ☒ а) приказы б) наместники в) волостели г) Боярская Дума

—

9. В каком году было введено христианство на Руси:

- а) 886г. б) 882г. в) 988г. ☒ г) 980г.

0,5

Шифр участника 021014

10. К какому веку относится правление Ярослава Мудрого:

а) XII

б) XI

в) XIII

г) IX

Ответ:

№	1	2	3	4	5	6	7	8	9	10
1.1.	Б	А	Б	Б	Г	А	Г	А	ВГ	Б
	+	+	+	+	-	+	+	-	+	+

1.2. Верно ли утверждение? Ответ оформите в виде таблицы (0,5 балла за каждый правильный ответ, максимальный балл - 5 баллов).

1. Конунг Рюрик и его братья согласились на условия славянских вождей, и вскоре Рюрик прибыл в Ладогу и «сел» в ней «владеть», Синеус устроился на западе в Изборске, а Трувор на севере, в Белоозере.

2. Отцом хана Батыя был Чингис-хан.

3. Андрей Рублев был учеником Феофана Грека.

4. При Иване III утверждается главный символ самодержавной России – герб с двуглавым орлом.

5. Иван Калита впервые добился в Орде права собирать дань с русских земель самостоятельно, без баскаков.

6. Церковь Покрова Богородицы на Нерли был построен в память одного из сыновей Андрея Боголюбского.

7. Полюдь - это летняя экспедиция князя по сбору дани.

8. Борис и Глеб были убиты в междоусобной борьбе старшим братом Святополком.

9. Главным событием правления Василия II стало свержение монгольского ига.

10. В середине 1340-х гг. страшная беда надвинулась на Русь – чума, «черная смерть».

Ответ:

№	ВЕРНО	НЕВЕРНО
1.2.	3 4 5 6 8 +	1 2 7 9 10 +

Задание 2. Определите и запишите принцип образования каждого логического ряда, найдите и выпишите лишний элемент в каждом ряду. Объясните, почему данный элемент является лишним. Максимальный балл за задание – 3 балла (0,5 балла за лишнее понятие и 0,5 балла за объяснение)


Шифр участника 021024

- 2.1. Вятичи, поляне, кривичи, балты, радимичи
2.2. Дажьбог, Стрибог, Водан, Перун, Ярило
2.3. Гончарный круг, плуг, каменный топор, ткацкий станок

Ответ:

- 2.1. Лишнее - _____, потому что _____
2.2. Лишнее - _____, потому что _____
2.3. Лишнее - _____, потому что _____

Задание 3. Рассмотрите изображенные на рисунках старинные профессии Древней Руси. Запишите под каждым номером название профессии и дайте её определение (объясните, чем занимался представитель данной профессии). Максимальный балл за задание – 16 баллов. За каждый правильный ответ – 1 балл.




Шифр участника 011024

2




6



3



7



4



8



Шифр участника 021024

Ответ:

№	Профессия (занятие)	Определение
1	15 Бондари +	05
2	15 Дертекур +	05
3	00 Котевник	→ + 15
4	15 Мипарь +	05
5	15 Млеваника +	05
6	15 Ключики +	05
7	15 Корсёвник +	05
8	15 Пичмача +	05

Задание 4. Текст с пропусками. Заполните пробелы в тексте. Ответ оформите в виде перечня элементов под соответствующими номерами. Максимальный балл за задание – 15 баллов. За каждый правильный ответ – 1 балл.

В лето 6576 _ (1 - год от Рождества Христова). Пришли иноплеменики на Русскую землю _ (2 - название этноса/народа) многие. Князь великий киевский _ (3 - имя) же и братья его и _ (4 - имя) и младший _ (5 - имя) вышли против них на реку _ (6 - название). И с наступлением ночи они пошли друг на друга. За грехи наши напустил Бог на нас поганых, и бежали русские князья... Когда князь киевский с сыном бежали в _ (7 - город), а брат в _ (8 - город), люди, участвовавшие в походе, прибежали в город и собрали _ (9 - термин власти) на торгу, и послав к князю, сказали ему: "Вот, поганые рассыпались по всей земле, дай нам, князь, _ (10 - вид снаряжения) и коней, мы ещё побьемся с ними". Князь же этого не послушал. И люди пошли в гору и остановились около двора Брячислава и сказали: "Пойдем освободим дружину свою из _ (11 - место заключения)". И люди закричали, и освободили дружину и сына князя полоцкого _ (12 - имя). Двор же княжеский разграбили, [захватив] бесчисленное множество золота и серебра... Князь же киевский бежал в _ (13 - государство) ... В лето 6577 _ (14 - год от Рождества Христова). Пошел князь киевский со своим родственником, князем _ (15 - имя) вернуть свой стол...

Шифр участника 021024

Ответ:

1	1068 +	9	келье +
2	Половцы +	10	внуке +
3		11	Полонцы +
4		12	
5		13	польны +
6		14	1069 +
7	Киев. +	15	Болеслав +
8			

Задание 5. Установите соответствие между деятелями отечественной и всемирной истории и событием, участниками или свидетелями которого они были. Максимальный балл за задание – 5 баллов. За каждый правильный ответ – 1 балл.

Российская история	Всемирная история
1. Рюрик	А. Нормандское завоевание Англии
2. Ольга	Б. Разделение христианской церкви на Восточную (православную) и Западную (католическую)
3. Ярослав Мудрый	В. Первый крестовый поход
4. Изяслав Ярославич	Г. Распад империи франков
5. Святополк	Д. Образование Священной Римской империи

Ответ:

1	2	3	4	5
Г	Д	Б	А	В

Задание 6. Внимательно рассмотрите карту и выполните предложенные задания.

Максимальный балл за задание – 12 баллов.

- 6.1. Назовите государство, территория которого обозначена на схеме цифрой «1» (2 балла).
- 6.2. Укажите название войны, события которой отображены на территории государства, обозначенного на схеме цифрой «2». Укажите годы этой войны (4 балла).
- 6.3. Назовите государство, территория которого обозначена на схеме цифрой «3» (2 балла).

Шифр участника 021024

6.4. Назовите национальную героиню государства, обозначенного на схеме цифрой «2», деятельность которой связана с событиями, обозначенными на карте (2 балла).

6.5. Укажите, какой известный процесс происходил в тот же период, когда происходила война, событиям которой посвящена схема, в течение 69 лет на территории области, обозначенной на схеме цифрой «4» (2 балла).

Ответ:

6.1. Англия

25

6.2. Столетняя война

25

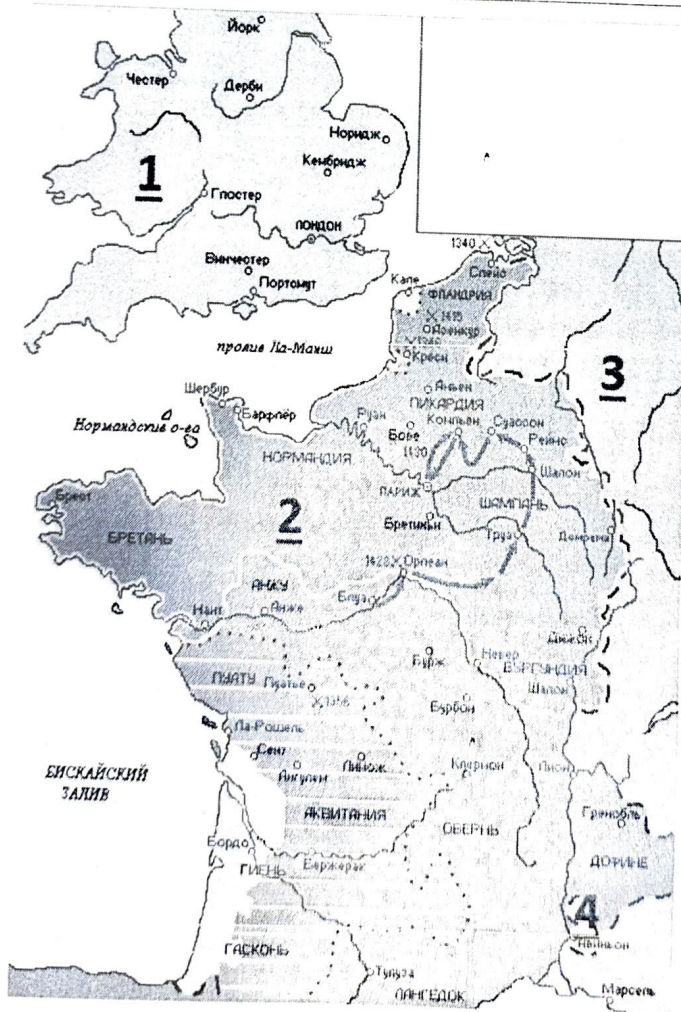
6.3. Византийская империя

25

6.4. Матча Деарк.

25

6.5.



Шифр участника 021024

Задание 7. Рассмотрите схемы представленные ниже принадлежащие к одной исторической эпохе и ответьте на вопросы. Максимальный балл за задание – 12 баллов.

1.

2.

3.

Шифр участника 021024

- 7.1. Определите исторические события, показанные на каждой из представленных схем 1-3 (3 балла).
- 7.2. Напишите дату каждого из них (3 балла).
- 7.3. Назовите государство, с войсками которого сражались русские воины в указанных битвах (1 балл).
- 7.4. Укажите не менее трех участников с русской стороны события, обозначенного на схеме под № 1 (3 балла)
- 7.5. Перечислите не менее двух литературных произведений, посвященных историческому событию, отраженному на схеме под № 1 (2 балла)


Ответ:

№	1 схема	2 схема	3 схема
7.1.			
7.2.			
7.3.			
7.4.			
7.5.			

Задание 8. Посмотрите на архитектурные сооружения и укажите: 1) название архитектурных сооружений (1 балл); 2) время их создания (с точностью до половины столетия) (1 балл); 3) имя князя, при котором они были построены (1 балл); 4) место их расположения (1 балл). Максимальный балл за задание – 16 баллов. За каждый правильный ответ – 1 балл.

Ответ:

№	Название	Время создания	Имя князя	Место
1	Золотые ворота +	XIII в. +	Андрей Боголюбский +	Владимир +
2	Дмитриевский собор +			Владимир +
3	Белокаменный Кремль +			Москва +
4	Софийский собор +			Киев. +

Шифр участника 02024


Задание 9. Используя все приведенные слова и словосочетания, составьте определения исторических понятий. Назовите эти понятия. Слова и словосочетания не могут использоваться дважды. Вы можете добавлять предлоги, изменять слова по падежам и пр. *Максимальный балл за задание – 3 балла. За каждый правильный ответ – 1 балл (в 9.1-9.2. определение+понятие).*

9.1. Глава, управление, Древний, выборный, в, городской, Новгород.

9.2. Высокий, хан, в, ордынский, покоренные, ранг, земли, представитель, чиновник.

9.3. Напишите имя одного из исторических деятелей европейской истории – современника Государя всея Руси Ивана III (1 балл)

Шифр участника 021024

Ответ:

9.1. Понятие: _____

Определение: _____

9.2. Понятие: _____

Определение: _____

9.3. _____

Задание 10. Посмотрите на изображения и заполните таблицу. Максимальный балл за задание – 8 баллов. За каждый правильный ответ – 1 балл.



	1 изображение	2 изображение
Кому посвящен памятник?	Михаилу Александровичу Некрасову 0,5	Фёдор Достоевский 1,0
Чем знаменит этот человек?	то что он художник-лириканец. 1,0	великий писатель 1,0
Как он связан с историей города Омска?	Художник родился в Омске. 1,0	жил в Омске 0,5
Какие объекты в городе Омске названы именем этого человека?	Омский музей изобразительных искусств 1,0	